

宁德市 2013—2014 学年度第二学期期末高一质量检测

地理试题 (A 卷)

(考试时间: 90 分钟; 满分: 100 分)

注意: 1. 此卷适用于一、二级达标校考生。

2. 在本试卷上作答无效, 应在答题卡各题指定的答题区域内作答。

第 I 卷 选择题

本卷 32 小题, 每小题 1.5 分, 共 48 分。每小题只有一个选项符合题目要求。

表一为我国现阶段环境与人口信息表, 据此完成 1~2 题。

表一

最多能供养的人口数量		约 16 亿人
适宜的人口数量	温饱型消费水平	10 亿之内
	小康型消费水平	8~9 亿人
	富裕型消费水平	7 亿之内

- 我国环境人口容量为
A. 约 16 亿人 B. 10 亿之内 C. 8~9 亿人 D. 7 亿之内
- 适宜的人口数量差异, 说明人口合理容量
A. 只受人口消费水平影响 B. 与人口消费水平呈正相关
C. 与人口消费水平呈负相关 D. 与人口消费水平无关

图 1 示意我国部分省区人口承载系数(实际人口密度与理论承载密度之比)及 20 世纪 80 年代下半期人口流动, 据图完成 3~4 题。

- 造成图示地区大规模人口流动的主要原因是
A. 自然资源分布不均
B. 人口密度分布不均
C. 交通线路分布差异
D. 经济发展水平差异

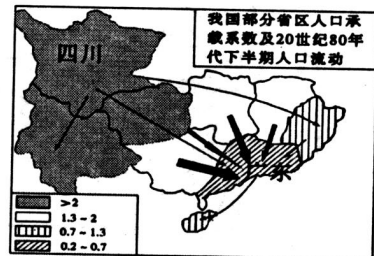


图 1

- 关于缓解四川人口压力的措施, 不合理的是
A. 加快经济发展, 提高人口承载力
B. 继续实行计划生育, 控制人口数量
C. 有序组织劳务输出, 转移农村剩余劳动力
D. 大力发展高等院校, 提高人口素质

图 2 示意城市化进程, 读图完成 5~6 题。

- 下列国家正处于 c 阶段的是
A. 墨西哥 B. 中国 C. 芬兰 D. 印度
- 城市化进程处于 b 阶段时, 常见的现象有
①交通拥堵 ②住房紧张 ③劳动力短缺 ④逆城市化
A. ①② B. ②③ C. ②④ D. ③④

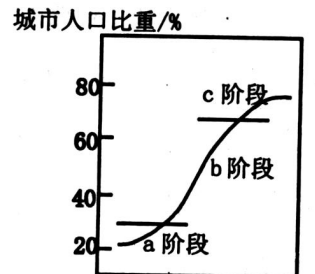


图 2

图3阴影部分示意印度半岛某大城市城区范围，读图完成7~8题。

7. 图中乙处对应的城市功能区特点是
- 人口数量昼夜差异小
 - 建筑高大密集
 - 对环境质量要求高
 - 占地面积比重最大
8. 化肥厂从丙地搬迁到甲地，主要考虑的因素是
- 市场和环境
 - 交通和水源
 - 地租和环境
 - 劳动力和交通



图3

图4示意荷兰某圩田居民点分布，读图完成9~10题。

9. 该地区居民点等级有
- 2级
 - 3级
 - 4级
 - 5级
10. 关于图中居民点的叙述，正确的是
- 居民点之间的服务范围相互排斥
 - 同等级居民点的服务范围层层嵌套
 - 低等级居民点数量多且相距较近
 - 中心居民点比周边居民点提供的服务种类少



图4

图5示意我国东南沿海某大城市郊区土地利用，读图完成11~12题。



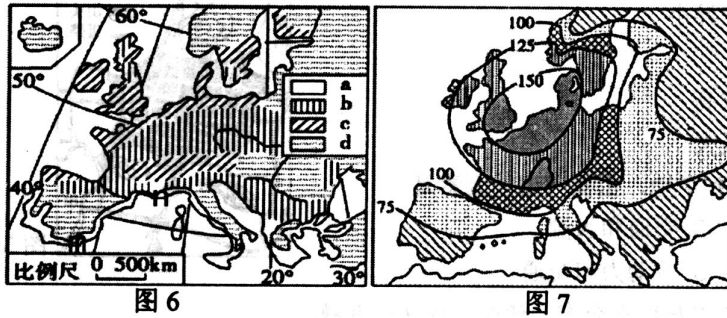
图5

11. 影响当地土地利用类型分布的主导因素是
- 气候
 - 水源
 - 地形
 - 土壤
12. 随着城市郊区农业结构的变化，该地农业土地利用类型中比重最可能下降的是
- 稻田
 - 鱼塘
 - 果园
 - 菜地花圃

湖南为水稻种植大省，通过培育和推广优良品种，水稻产量逐年增加。早春育秧时期，农民常用塑料薄膜覆盖农田，以抵御冻害。据此完成13~14题。

13. 塑料薄膜覆盖主要改善的条件是
- 热量
 - 水分
 - 湿度
 - 光照
14. 上述材料说明，当前提高农业产出的重要手段是
- 改变耕作方式
 - 加大劳动力投入
 - 增加化肥使用量
 - 加大科技投入

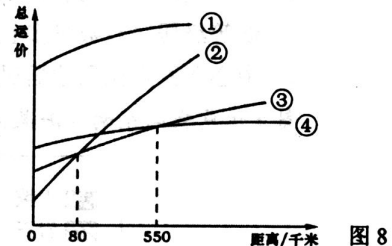
图6示意欧洲四种农业地域类型分布,图7示意欧洲各地农业集约度指数分布,集约度指数越高,则农业集约化经营程度越高。据此完成15~16题。



15. 欧洲商品化和集约化程度最高的农业地域类型是
 A. a B. b C. c D. d
16. m、n两地均盛产葡萄。两地相比,n地的区位优势是
 A. 海运便利 B. 接近市场 C. 鲜果上市早 D. 生产经验丰富

图8示意航空、公路、水运、铁路四种运输方式的货物运费与运距关系,读图完成17~18题。

17. 仅从运费考虑,运距小于80千米时,宜选择的运输方式是
 A. ① B. ② C. ③ D. ④



18. 下列不属于运输方式④的特点是
 A. 短距离运输成本较高
 B. 受自然条件影响较大
 C. 运输线路建设成本高
 D. 历史悠久且运输量大

图9为我国某景区的盘山公路,该路弯弯紧连,号称“九十九道弯”。读图完成19~20题。

19. 该盘山公路“弯弯紧连”,其最主要作用是
 A. 降低线路坡度 B. 提高运输效率
 C. 连接更多聚落 D. 缩短运输里程
20. 与盘山公路相比,修建高速公路可以
 A. 节省运行时间 B. 节省投资成本
 C. 减少拆迁量 D. 少占用耕地


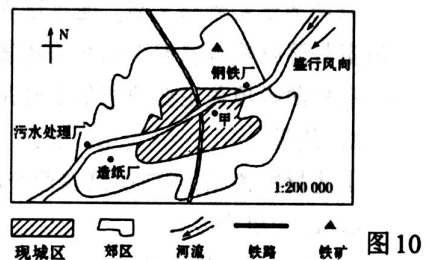


图10示意某城市部分工厂分布,据图完成21~22题。

21. 甲为老自来水厂,其布局相对于老城区是合理的,由此推测该城市老城区大致位于
 A. 铁路以东 B. 铁路以西
 C. 河流以南 D. 河流以北
22. 从保护城市环境角度考虑,需要搬迁的有
 ①钢铁厂 ②污水处理厂 ③造纸厂 ④铁路
 A. ①② B. ②③ C. ③④ D. ①④



近年来，动漫产业发展迅速。图 11 示意动漫制作过程，据此完成 23~24 题。



图 11

23. 动漫产业

- A. 各环节制作过程联系紧密
- B. 规模以大型企业为主
- C. 从业人员学历水平都很高
- D. 运输量大且靠近市场

24. 为促进动漫产业的发展，可采取的措施有

- ①完善大容量的高速网络通讯等基础设施
 - ②加大专业技术人员的培养力度
 - ③发挥产业集聚优势，形成产业链
 - ④健全法律法规，保护知识产权
 - ⑤舍弃传统文化，鼓励文化创新
- A. ①②③④ B. ②③④⑤ C. ①③④⑤ D. ①②③⑤

图 12 示意广东惠州某音响零件生产厂家地域分布，读图完成 25~26 题。

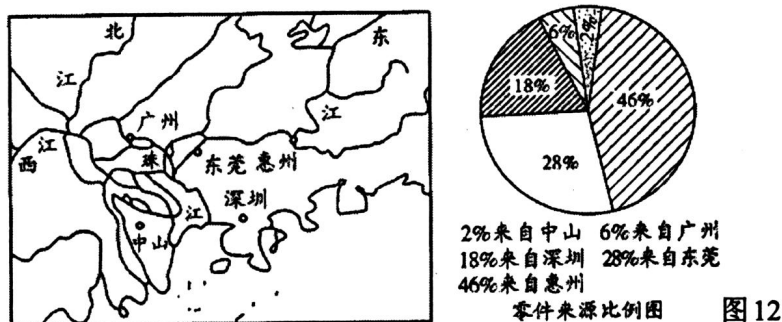


图 12

25. 音响零件生产厂家集聚在惠州附近的原因有

- ①加强技术交流和工业联系
 - ②降低生产成本，提高经济效益
 - ③接近音响零部件供应地
 - ④接近音响主要市场
 - ⑤共同利用基础设施
- A. ①②③④ B. ①②③⑤ C. ①②④⑤ D. ②③④⑤

26. 促进该区域生产厂家实现地域联系的主要条件是

- A. 冷藏技术的普及
- B. 环境污染的治理
- C. 国家计划的安排
- D. 交通网络的完善

人类社会经历了原始文明、农业文明、工业文明,即将进入环境文明时代,据此完成 27~28 题。

27. 在人类社会发展的四个阶段中,人地矛盾最为激化的阶段是
 A. 原始文明时代 B. 农业文明时代 C. 工业文明时代 D. 环境文明时代
28. 在工业文明时期,生态城市建设的核心是协调好经济、社会发展与生态环境质量之间的关系,这突出体现了可持续发展的
 A. 共同性原则 B. 公平性原则 C. 持续性原则 D. 经济性原则

图 13 示意某农业生态园生态链种养循环,据此完成 29~30 题。

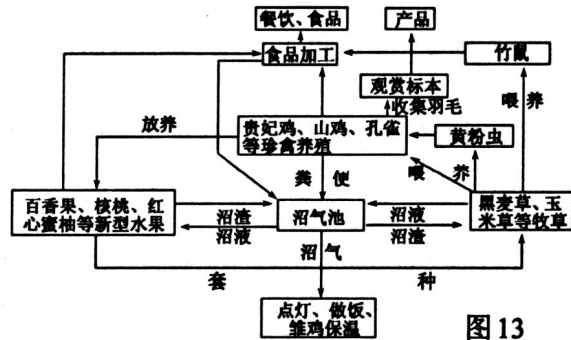


图 13

29. 该农业生态园的废弃物再利用体现在
 ①食品加工产生的废弃物和秸秆、粪便于于生产沼气 ②养黄粉虫作为贵妃鸡、孔雀等珍禽的饲料 ③在红心蜜柚等水果林地中套种黑麦草、玉米草等牧草 ④收集珍禽的羽毛制作成观赏标本
 A. ①② B. ②③ C. ③④ D. ①④
30. 该农业生态园主要的生态效益有
 ①废弃物资源化,减少环境污染 ②延长产业链,提高产品附加值 ③使用有机肥料,发展绿色生产 ④使用沼气能源,减少植被破坏 ⑤促进餐饮、休闲旅游等第三产业的发展
 A. ①②③ B. ①③④ C. ②③⑤ D. ③④⑤

图 14 为“我国某地生态工业园区的循环经济模式图”,读图完成 31~32 题。

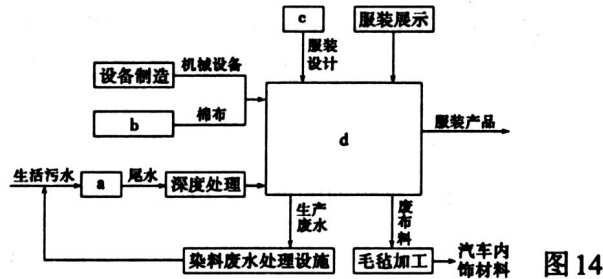


图 14

31. 该循环系统中, a、b、c、d 依次为
 A. 污水处理厂、服装生产、棉纺织、创意产业
 B. 棉纺织、创意产业、污水处理厂、服装生产
 C. 创意产业、棉纺织、服装生产、污水处理厂
 D. 污水处理厂、棉纺织、创意产业、服装生产

32. 关于该生态工业园区的说法，正确的是
- A. 该生态工业园区的主导产业是毛毡加工
 - B. 该工业园属于高科技产业园
 - C. 具有良好的经济效益和生态效益
 - D. 生产过程中所有工业产品和废弃物都能循环利用

第II卷 非选择题

本卷共5小题，共52分。

33. 一个国家或地区60岁以上人口比重超过10%标志其步入老龄化社会。图15示意甲国人口年龄结构变化，图16示意影响人口增长的因素，读图回答下列问题。（10分）

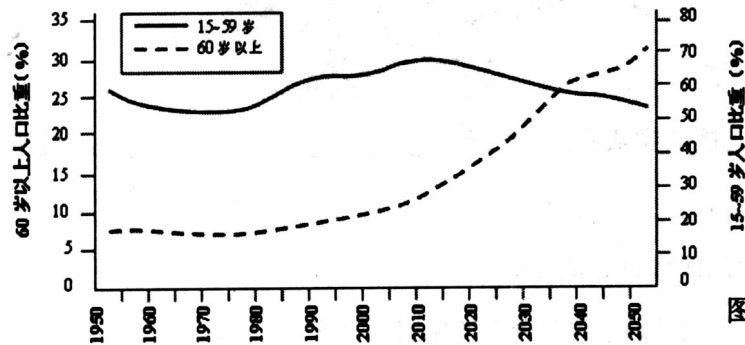


图15

注：未达年份数据为预测值

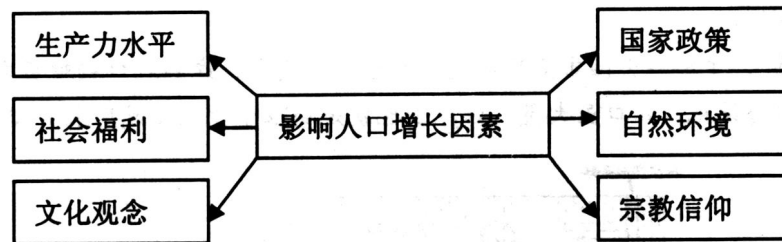
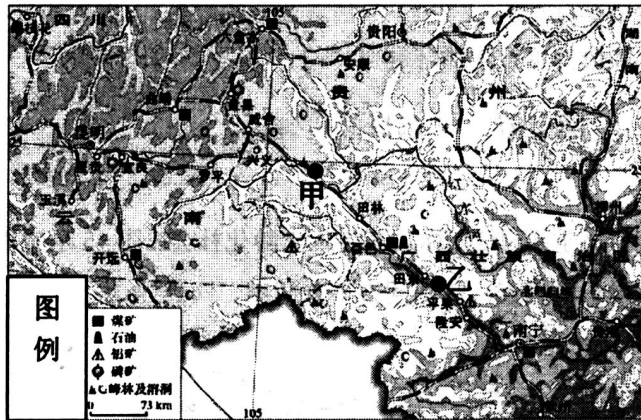


图16

- (1) 图15表明，2010年以来，甲国劳动年龄人口比重不断_____（上升/下降），甲国当前_____（已经/尚未）步入老龄化社会。（2分）
- (2) 据图16，说出影响当前我国人口出生率低的主要因素有_____、_____和生产力水平；导致发达国家人口出生率低的主要原因是生产力水平提高、_____、_____和避孕节育措施的日益普及等。（4分）
- (3) 说出人口老龄化带来的问题及对应的措施（4分）

问题	对应的措施

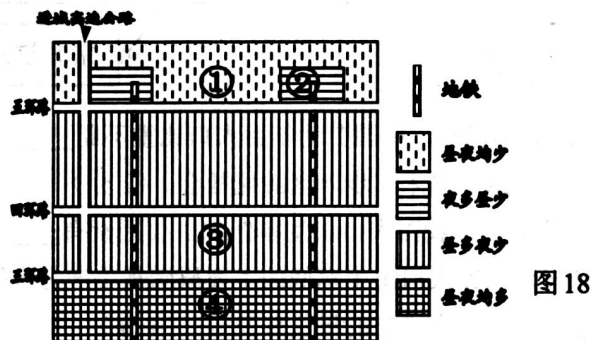
34. 西南地区是我国少数民族聚居地，是矿产资源的聚宝盆。结合图 17 “南昆铁路线地理位置图”，回答下列问题。(12分)



- (1) 南昆铁路连接的省级行政中心是_____、_____，沿线分布的矿产资源有_____、_____等。(4分)
- (2) 简述建设南昆铁路的主要意义。(4分)
- (3) 分析甲、乙路段铁路沿河谷分布的原因。(4分)

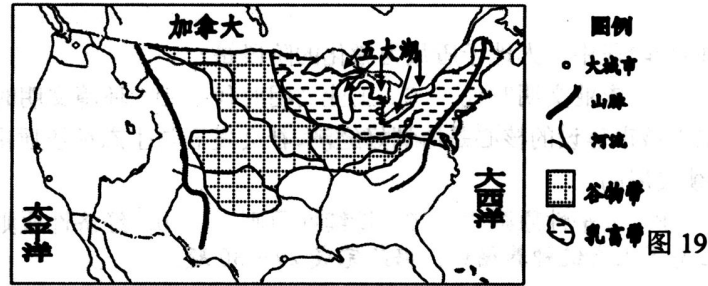
35. 我国某特大城市地处平原，图 18 示意该城市局部地区人口昼夜变化，结合材料，回答下列问题。(9分)

材料 “睡城”，主要指大城市周边的大型社区或居民点，这些人口相对集中的区域，由于缺乏成熟的的城市配套设施，人口虽大量入住，但也就是局限于晚上(或周末)回家睡觉。



- (1) 图中①②③④地，睡城位于_____地，其形成的主要条件是_____。(3分)
- (2) 图中①②③④地，商住混合区为_____地，文教和高新产业区为_____地。(2分)
- (3) 图中①②③④地，建筑物密度最小的是_____地，其位于主城区的_____ (填方位)，土地利用类型主要是_____、_____和休闲娱乐用地。(4分)

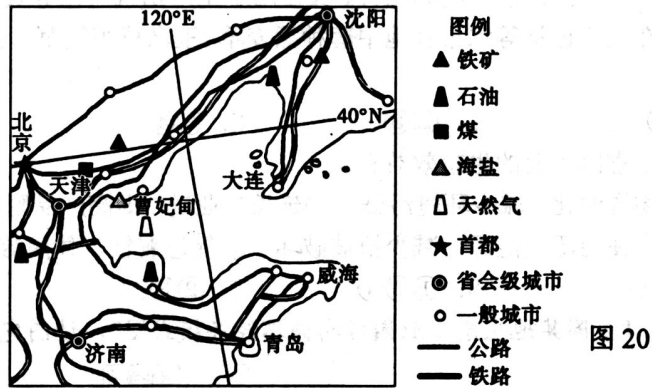
36. 图 19 示意美国部分农业地域分布，读图回答下列问题。(11 分)



- (1) 谷物带主要的农作物有_____和_____, 并简述该农业地域类型的主要特点。(5 分)
- (2) 影响乳畜业的形成因素有_____和_____, 分析美国五大湖周围形成乳畜带的有利条件。(6 分)

37. 图 20 示意北京及曹妃甸周边地区，阅读图文材料，回答下列问题。(10 分)

材料 随着时代发展，首钢与环境矛盾日益突出，2005 年，国家决定将首钢由北京迁到被誉为“钻石级港址”的曹妃甸，新建一个现代化钢铁联合企业，2011 年开始在首钢旧址兴建以发展文化艺术、软件设计、钢铁博物馆等产业为主体的“后工业文化创意产业区”。



- (1) 首钢搬迁将会拉动曹妃甸_____发展。(本题为不定项选择，2 分)
- A. 棉纺工业 B. 机械工业
- C. 水电工业 D. 汽车工业
- (2) 简要分析首钢由北京搬迁到曹妃甸的原因。(4 分)
- (3) 说明在首钢旧址建设“后工业文化创意产业区”的有利条件。(4 分)

宁德市 2013—2014 学年度第二学期期末高一质量检测

地理参考答案及评分细则（A 卷）

一、单项选择题（本题共 32 小题，每小题 1.5 分，共 48 分）

题号	1	2	3	4	5	6	7	8	9	10	11	12	13	14	15	16
答案	A	C	D	D	C	A	B	C	B	C	C	A	A	D	C	B
题号	17	18	19	20	21	22	23	24	25	26	27	28	29	30	31	32
答案	B	C	A	A	B	D	A	A	B	D	C	C	D	B	D	C

二、非选择题(本题共 5 小题, 共 52 分)

33. (10 分)

(1) 下降 已经 (2 分)

(2) 国家政策 文化观念

文化(婚育)观念转变 社会福利(待遇)提高(4 分)

【评分说明：因素只在图 16 中选择，原因要有变化的字眼】

(3) (4 分)

问题	对应的措施
劳动力不足	适当鼓励生育/延长退休/接纳移民等
社会养老负担加重	建立完善养老体制/社会福利制度等

【评分说明：每空一分，满分四分，问题与措施不对应，分数得半，言之有理，酌情给分】

34.(12 分)

(1) 昆明 南宁(或南宁 昆明) 煤炭、石油、磷矿、铝(土)矿等。(4 分)

(2) 促进西南地区资源开发；带动沿线地区经济发展；加快少数民族地区脱贫致富，促进民族团结；开辟西南地区出海通道，加强对外交流与联系；合理布局交通网；有利于巩固国防等。

【评分说明：每点 1 分，满分 4 分，言之有理，酌情给分】

(3) 地势相对和缓，可降低铁路修建成本和难度；山区河谷地带人口和城市相对密集，交通

量大，铁路运营效益高。【评分说明：每点2分，因果各1分，满分4分，言之有理，酌情给分】

35. (9分)

(1) ② (1分) 地租便宜，房价较低；位于地铁终点站，交通便利【评分说明：每点1分，满分2分】(2) ④ ③ (2分)

(3) ① (1分) 北部 (1分) 绿化用地；蔬菜、花卉、水果等园艺业用地；乳畜业用地【评分说明：每点1分，满分2分，如果仅些农业用地方面的给1分】

36. (11分)

(1) (春/冬)小麦 玉米 (2分) 生产规模大、机械化水平高、商品率高、科技水平高、专业化水平高等。【评分说明：每点1分，满分3分，言之有理，酌情给分】

(2) 饲料 (1分) 市场 (1分)

气候温和、水源充足，适合牧草生长；临近谷物带，饲料量大价廉，饲料条件好【评分说明：每点1分，满分2分，言之有理，酌情给分】

城市众多，消费水平高；饮食以乳肉制品为主，需求量大，市场广阔【评分说明：每点1分，满分2分，言之有理，酌情给分】

37. (10分)

(1) BD【评分说明：只选一项并正确，得1分】

(2) 减轻北京城区环境污染；优化北京地区产业结构；曹妃甸海运条件优越；地租较低；接近煤铁等资源地；产业布局调整；政府决策等。【评分说明：每点1分，满分4分，言之有理，酌情给分】

(3) 经济发达，生活水平高，文化需求量大；高等院校密布，人才众多，科技力量雄厚；北京地处中国文化中心，首钢旧址工业文化积淀深厚；国家政策支持力度大；市民支持发展能耗低、无污染的产业。【评分说明：每点1分，满分4分，言之有理，酌情给分】